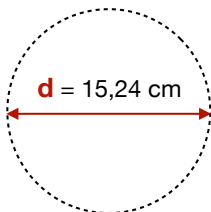


**Calcul le PÉRIMÈTRE d'un cercle
avec un diamètre**

Multiplie le **d**iamètre pour obtenir
le PÉRIMÈTRE de ton tipi



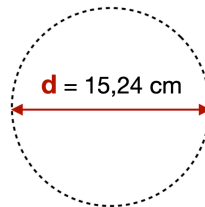
$$\pi = 3,14$$

$$P = d \times \pi$$
$$P = 15,24 \times 3,14$$
$$P = \underline{\hspace{2cm}} \text{ cm}$$

Le périmètre de mon tipi est de cm

**Calcul le PÉRIMÈTRE d'un cercle
avec un diamètre**

Multiplie le **d**iamètre pour obtenir
le PÉRIMÈTRE de ton tipi



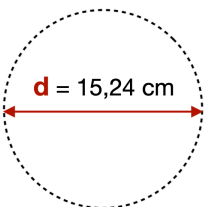
$$\pi = 3,14$$

$$P = d \times \pi$$
$$P = 15,24 \times 3,14$$
$$P = \underline{\hspace{2cm}} \text{ cm}$$

Le périmètre de mon tipi est de cm

**Calcul le PÉRIMÈTRE d'un cercle
avec un diamètre**

Multiplie le **d**iamètre pour obtenir
le PÉRIMÈTRE de ton tipi



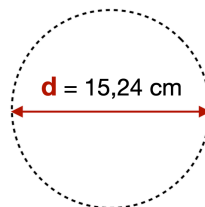
$$\pi = 3,14$$

$$P = d \times \pi$$
$$P = 15,24 \times 3,14$$
$$P = \underline{\hspace{2cm}} \text{ cm}$$

Le périmètre de mon tipi est de cm

**Calcul le PÉRIMÈTRE d'un cercle
avec un diamètre**

Multiplie le **d**iamètre pour obtenir
le PÉRIMÈTRE de ton tipi



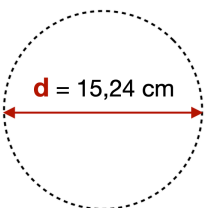
$$\pi = 3,14$$

$$P = d \times \pi$$
$$P = 15,24 \times 3,14$$
$$P = \underline{\hspace{2cm}} \text{ cm}$$

Le périmètre de mon tipi est de cm

**Calcul le PÉRIMÈTRE d'un cercle
avec un diamètre**

Multiplie le **d**iamètre pour obtenir
le PÉRIMÈTRE de ton tipi



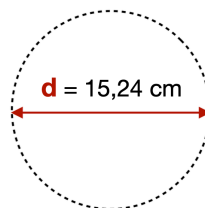
$$\pi = 3,14$$

$$P = d \times \pi$$
$$P = 15,24 \times 3,14$$
$$P = \underline{\hspace{2cm}} \text{ cm}$$

Le périmètre de mon tipi est de cm

**Calcul le PÉRIMÈTRE d'un cercle
avec un diamètre**

Multiplie le **d**iamètre pour obtenir
le PÉRIMÈTRE de ton tipi



$$\pi = 3,14$$

$$P = d \times \pi$$
$$P = 15,24 \times 3,14$$
$$P = \underline{\hspace{2cm}} \text{ cm}$$

Le périmètre de mon tipi est de cm