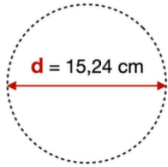


**Calcul le PÉRIMÈTRE d'un cercle avec un diamètre**

Multiplie le **d**iamètre pour obtenir le PÉRIMÈTRE de ton tipi



$\pi = 3,14$

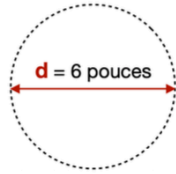
$P = d \times \pi$   
 $P = 15,24 \times 3,14$   
 $P = 47,85$  cm

Le périmètre de mon tipi est de 47,85 cm

2

**Calcul le RAYON d'un cercle avec un diamètre**

Divise le **d**iamètre par 2 pour obtenir le RAYON de ton tipi



$d \div 2 = R$   
 $6 \div 2 = 3$  po

Le rayon de mon tipi est de 3 po

3

**Trouve les données manquantes**

Le **d**iamètre divisé par 2 = le **r**ayon

$d \div 2 = R$   
 $6 \text{ po} \div 2 = 3$  po

Le **r**ayon multiplié par 2 = le **d**iamètre

$R \times 2 = d$   
 $3 \text{ po} \times 2 = 6$  po

Pour obtenir le **p**érimètre d'un cercle multiplier le **d** par  $\pi$

4

**Éléments nécessaires au campement**

- du bois
- de l'eau
- du sapin
- la position de l'ouverture du tipi est à l'abri du vent


5

WTS



Innu-Mitshuap

8



MOTIFS

3

4

7

Le blanc est la réunion de toutes les couleurs et le noir est l'absence de couleur.

- blanc
- noir
- rouge
- jaune

Les 4 couleurs de la race humaine

9

